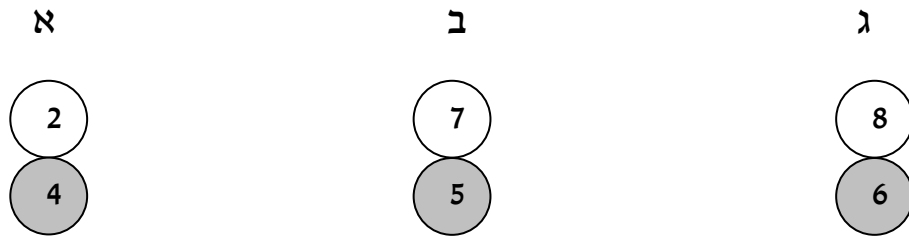


דסקיות

1. לרוגן יש 3 דסקיות. לכל דסקית יש צד אחד לבן וצד אחד אפור.
 על כל הדסקיות רשומים המספרים האלה:

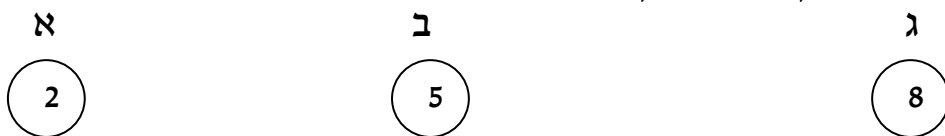


רוגן שיחק במשחק הזה:

- בוחרים כל פעם שתי דסקיות.
- מניחים על השולחן דסקית אחת על הצד הלבן ואת הדסקית האחרת על הצד האפור.
- כופלים את שני המספרים שעל הצד הגלוי של הדסקית.
- רושמים את המכפלות שהתקבלו.

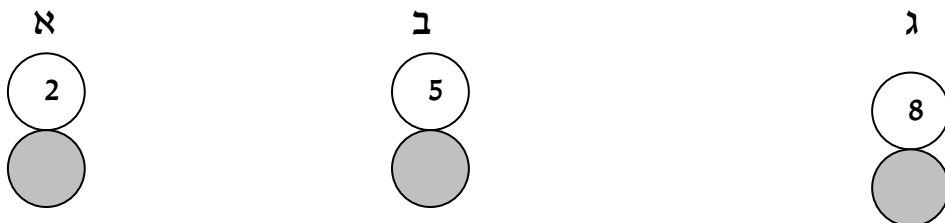
רשמו את המכפלות שקבל רוגן: _____

2. גם לירדן יש 3 דסקיות אפורות – לבנות אך הן ממוספרות אחרת. על הצד הלבן של הדסקיות רשומים המספרים האלה:



ירדן שיחקה את אותו המשחק וקבלה את המכפלות האלה:
 48, 35, 30, 24, 14, 6.

האם תוכלו למצוא איזה מספר רשום על הצד האפור של כל דסקית?



3. למיכאל יש 4 דסקיות לבנות-אפורות, על הצד הלבן שלהן רשומים המספרים האלה:



מיכאל שיחק גם הוא את אותו המשחק של רונן וקיבל את המכפלות האלה: 6, 10, 12, 18, 30, 32, 35, 36, 48, 56, 63.

האם תוכלו למצוא איזה מספר רשום על הצד האפור של כל דסקית?

